

به نام پروردگار مهربان

ازمون مدادکاغذی ریاضی نوبت دوم

پایه ی دوم

نام و نام خانوادگی :

دبستان دخترانه ی شهید پورجندقی شهرستان رفسنجان

مورخ: 1401/2/26

(( آموزگار خاندانی ))



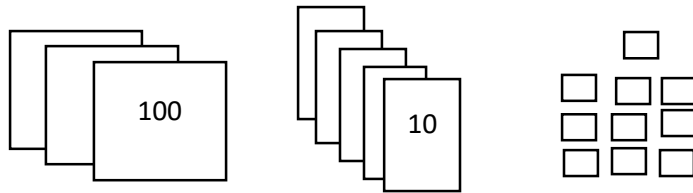
1\_ با کارت های 6, 7, 3 تمام عددهای سه رقمی را بسازید و بنویسید.

از بین عددهایی که نوشتید بزرگترین عدد ..... و یک عدد زوج ..... و یک عدد فرد ..... بنویسید.

2\_ در جای خالی علامت ( $\geq$  =  $\leq$ ) قرار بده گلم.

16 میلی متر  یک سانتی متر و شش میلیمتر


$200+200+5$    $400+50+7$



3\_ با توجه به شکل در جای خالی عدد مناسب بنویس.

به عدد: .....

به حروف: .....

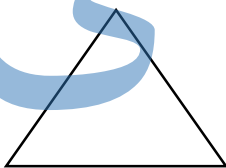


4\_ ساعت چند است؟ .....

یک ربع بعد ساعت چند می شود؟ ..... : ..... یا همان .....

مقدار چرخش عقربه ی بزرگ را رنگ بزن.

5\_ طول هر ضلع را با خط کش اندازه بگیر و به سانتی متر و میلی متر بنویس.



6\_ مریم 750 ریال داشت. او 145 ریال در صندوق صدقات انداخت و با 260 ریال هم یک کتاب خرید.

الف) مریم چند ریال خرج کرده است؟

ب) حالا مریم چند ریال دارد؟

7\_ داخل کیسه ای 8 مهره ی ابی و 5 مهره ی قرمز وجود دارد. اگر بدون نگاه کردن یک مهره بیرون بیاوریم احتمال اینکه

کدام رنگ باشد بیشتر است؟ ..... چرا؟ .....



..... قسمت از ..... قسمت مهره ها قرمز است؟

..... قسمت از ..... قسمت مهره ها ابی است؟


8\_ جمع و تفریق های زیر را به روش های خواسته شده انجام بدهید.

فرایندی (چکمه ای)	تکنیکی (انتقالی)	تقریبی با حذف یکان و دهگان
$\begin{array}{r} 456 \\ + 311 \\ \hline \end{array}$	$\begin{array}{r} 156 \quad 900 \\ + 345 \quad - 123 \\ \hline \end{array}$	$456 \longrightarrow \dots\dots\dots$ $+123 \longrightarrow + \dots\dots\dots$

9\_ الگوی عددی زیر را ادامه بدهید.

7\_ 14\_ 21\_ .....\_ .....

3\_ 4\_ 6\_ 9\_ .....\_ .....

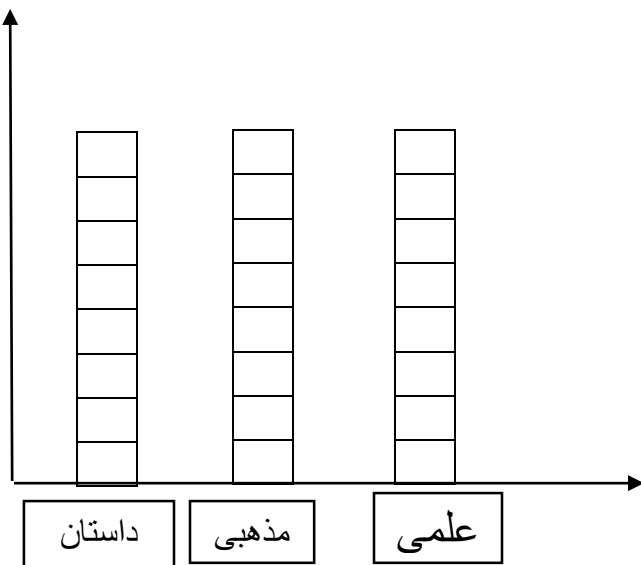


10\_ عبارت شکل را کامل کنید.

..... تا ..... تایی می شود.....

11\_ سارا در سال تحصیلی 8 کتاب داستان ، 2 کتاب علمی و 5 کتاب مذهبی از کتابخانه ی مدرسه امانت گرفت و

خواند. نمودار کتاب های خوانده شده را کامل کنید. به نظر شما سارا به چه نوع کتابی بیشتر علاقه دارد؟.....



به چه کتابی علاقه ی کمتری دارد؟.....

به نام پروردگار مهربان

ازمون مدادکاغذی ریاضی نوبت دوم

پایه ی دوم

نام و نام خانوادگی :

دبستان دخترانه ی شهید پورجندقی شهرستان رفسنجان

مورخ: 1401/2/26

(( آموزگار خاندانی ))



1\_ با کارت های 6, 7, 3 تمام عددهای سه رقمی را بسازید و بنویسید.

763\_736\_673\_637\_376\_367

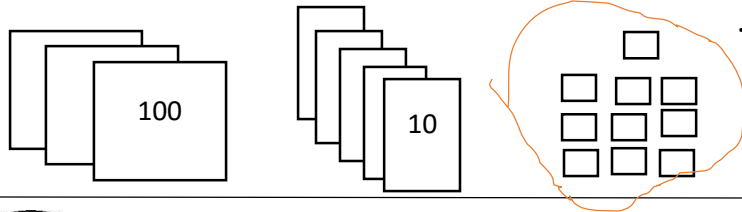
از بین عددهایی که نوشتید بزرگترین عدد 763 و یک عدد زوج (736) و یک عدد فرد 763 بنویسید.

2\_ در جای خالی علامت ( $\geq$   $=$   $\leq$ ) قرار بده گلم.

16 میلی متر = یک سانتی متر و شش میلیمتر

$200+200+5 < 400+50+7$

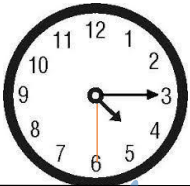
3\_ با توجه به شکل در جای خالی عدد مناسب بنویس.



به عدد : 360

به حروف : سیصد و شصت

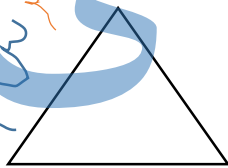
4\_ ساعت چند است؟ 15 : 4



یک ربع بعد ساعت چند می شود؟ 4 : 30 یا همان چهار و نیم

مقدار چرخش عقربه ی بزرگ را رنگ بزن.

5\_ طول هر ضلع را با خط کش اندازه بگیر و به سانتی متر و میلی متر بنویس.



6\_ مریم 750 ریال داشت. او 145 ریال در صندوق صدقات انداخت و با 260 ریال هم یک کتاب خرید.

الف) مریم چند ریال خرج کرده است؟  $145 + 260 = 405$

ب) حالا مریم چند ریال دارد؟  $750 - 405 = 345$

7\_ داخل کیسه ای 8 مهره ی ابی و 5 مهره ی قرمز وجود دارد. اگر بدون نگاه کردن یک مهره بیرون بیاوریم احتمال اینکه

کدام رنگ باشد بیشتر است؟ مهره ی ابی چرا؟ چون تعداد مهره ی ابی بیشتر است.



..... 5 قسمت از 13... قسمت مهره ها قرمز است.

8 قسمت از 13 قسمت مهره ها ابی است.


8\_ جمع و تفریق های زیر را به روش های خواسته شده انجام بدهید.

فرایندی (چکمه ای)	تکنیکی (انتقالی)	تقریبی با حذف یکان و دهگان
$\begin{array}{r} 456 \\ + 311 \\ \hline 767 \end{array}$	$\begin{array}{r} 156 \quad 900 \\ + 345 \quad \_ 123 \\ \hline 510 \quad \quad 777 \end{array}$	$\begin{array}{r} 456 \longrightarrow 400 \\ +123 \longrightarrow + 100 \\ \hline \quad \quad \quad 500 \end{array}$

9\_ الگوی عددی زیر را ادامه بدهید.

7\_ 14\_ 21\_ 28\_ 35

3\_ 4\_ 6\_ 9\_ 13\_ 18

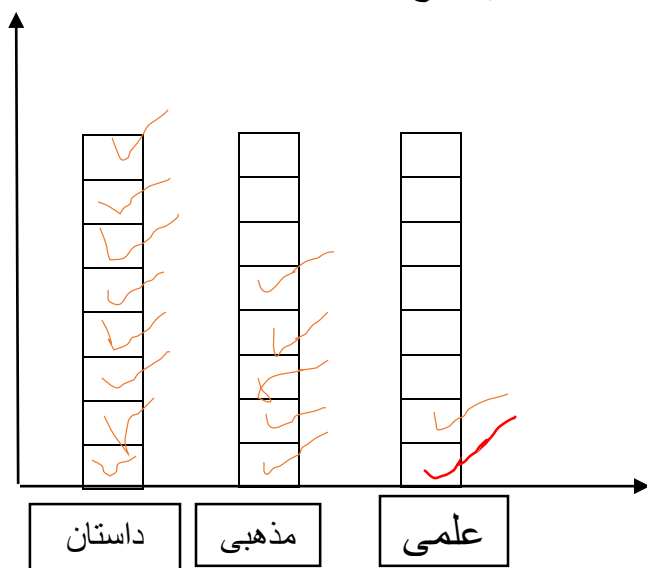


10\_ عبارت شکل را کامل کنید.

3 تا 5 تایی می شود 15

11\_ سارا در سال تحصیلی 8 کتاب داستان، 2 کتاب علمی و 5 کتاب مذهبی از کتابخانه ی مدرسه امانت گرفت و

خواند. نمودار کتاب های خوانده شده را کامل کنید. به نظر شما سارا به چه نوع کتابی بیشتر علاقه دارد؟ **کتاب داستان**



به چه کتابی علاقه ی کمتری دارد؟ **کتاب علمی**